

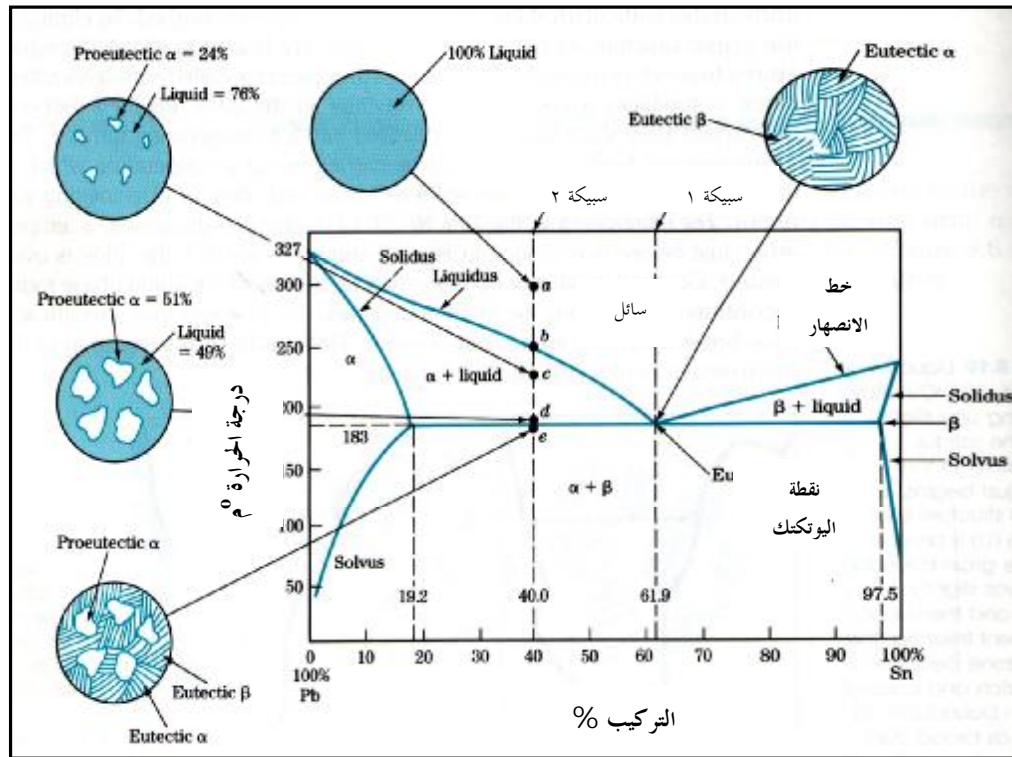
مخططات الاتزان الحراري

المحاضرة الثامنة:

الأهداف: أن يكون الطالب قادرا على:

- تحليل مخطط الاتزان الحراري لسبيكة رصاص - قصدير.
- تطبيق قاعدة ليفر (lever rule) على مخطط الاتزان الحراري لسبيكة رصاص - قصدير .
- تحليل مخطط الاتزان الحراري للحديد والكربون.
- تطبيق قاعدة ليفر (lever rule) على مخطط الاتزان الحراري للحديد والكربون.

مخطط الاتزان الحراري لسبيكة رصاص - قصدير:



شكل (٨-١) مخطط الاتزان الحراري لسبيكة رصاص - قصدير

شكل (٨-١) يوضح مخطط الاتزان الحراري لسبيكة (رصاص - قصدير) أو (Pb - Sn) أو (lead - Tin) الذي يتكون من:

- ١- ستة مناطق بها ثلاثة أطوار هي α ، β والسائل (Liquid).
- ٢- درجة انصهار الرصاص 327°C و القصدير 232°C .
- ٣- نقطة يوتكتك عند ٦١,٩ % قصدير.
- ٤- طور المحلول الجامد α اكبر من طور المحلول الجامد β .

التطبيق الأول:

- قم بتحليل الأطوار لمخطط الاتزان الحراري لسبيكة رصاص - قصدير (شكل ٨-١) عند النقاط التالية:
- ١- عند اليوتكتك، تحت درجة الحرارة ١٨٣ م مباشرة.
 - ٢- النقطة (c) عند ٤٠ % قصدير ودرجة حرارة ٢٣٠ م.
 - ٣- النقطة (d) عند ٤٠ % قصدير ودرجة حرارة ١٨٣ م + ΔT .
 - ٤- النقطة (e) عند ٤٠ % قصدير ودرجة حرارة ١٨٣ م - ΔT .

الحل: (تطبيق قاعدة ليفر)

1- $W_{\alpha}=19.2\% \text{ Sn}$, $W_{\beta}=97.5\% \text{ Sn}$

$$X_a = \frac{W_b - W_o}{W_b - W_a} \times 100 = \frac{97.5 - 61.9}{97.5 - 19.2} \times 100 = 45.5\%$$

$$X_b = \frac{W_o - W_a}{W_b - W_a} \times 100 = \frac{61.9 - 19.2}{97.5 - 19.2} \times 100 = 54.5\%$$

Or $X_{\beta} = 100 - X_{\alpha} = 100 - 45.5 = 54.5\%$

2- $W_{\alpha}=15\% \text{ Sn}$, $W_L=48\% \text{ Sn}$

$$X_a = \frac{W_L - W_o}{W_L - W_a} \times 100 = \frac{48 - 40}{48 - 15} \times 100 = 24\%$$

$$X_L = 100 - X_{\alpha} = 100 - 24 = 76\%$$

3- $W_{\alpha}=19.2\% \text{ Sn}$, $W_L=61.9\% \text{ Sn}$

$$X_a = \frac{W_L - W_o}{W_L - W_a} \times 100 = \frac{61.9 - 40}{61.9 - 19.2} \times 100 = 51\%$$

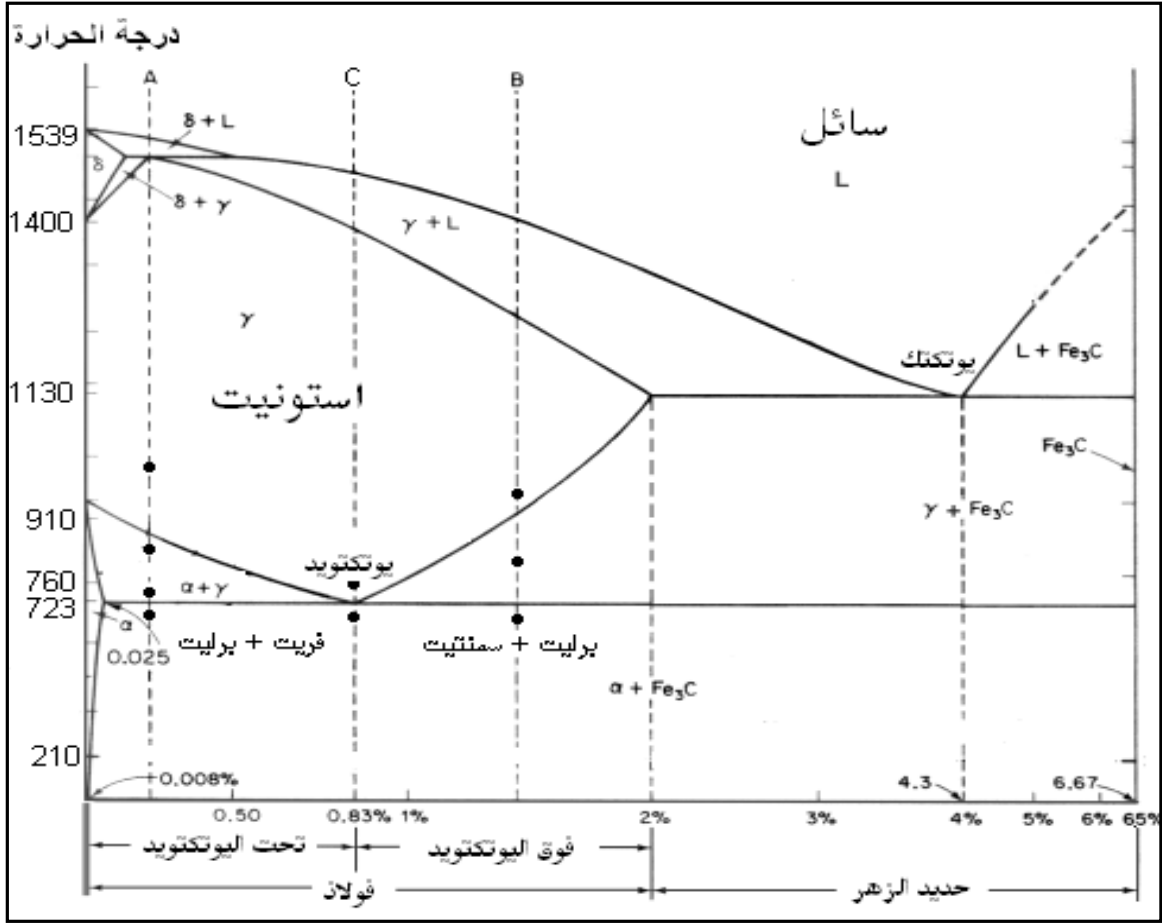
$$X_L = 100 - X_{\alpha} = 100 - 51 = 49\%$$

4- $W_{\alpha}=19.2\% \text{ Sn}$, $W_{\beta}=97.5\% \text{ Sn}$

$$X_a = \frac{W_b - W_o}{W_b - W_a} \times 100 = \frac{97.5 - 40}{97.5 - 19.2} \times 100 = 73\%$$

$$X_{\beta} = 100 - X_{\alpha} = 100 - 73 = 27\%$$

مخطط الاتزان الحراري للحديد والكربون:



شكل (٢-٨) مخطط الاتزان الحراري للحديد والكربون

الأطوار الموجودة في المخطط:

- ١- عند درجة حرارة الغرفة يوجد طوران هما:
 + فريت (Ferrite) ويرمز له بالرمز α وتركيبه البلوري Bcc
 + سمنتيت (Cementite) ويرمز له بـ Fe_3C ويسمى أحيانا كربيد (Carbide)
- ٢- طور الاستونيت (Austenite) ويرمز له بالرمز γ وتركيبه البلوري Fcc
- ٣- طور الفريت δ وهو طور مستقر عند درجات الحرارة العالية
- ٤- طور السائل

النقاط المهمة على المخطط:

- ١- نقطة اليوتكتك عند التركيب ٤,٣ % كربون ودرجة حرارة ١١٣٠ م°.
- ٢- نقطة اليوتكتويد عند التركيب ٠,٨٣ % كربون ودرجة حرارة ٧٢٣ م°.

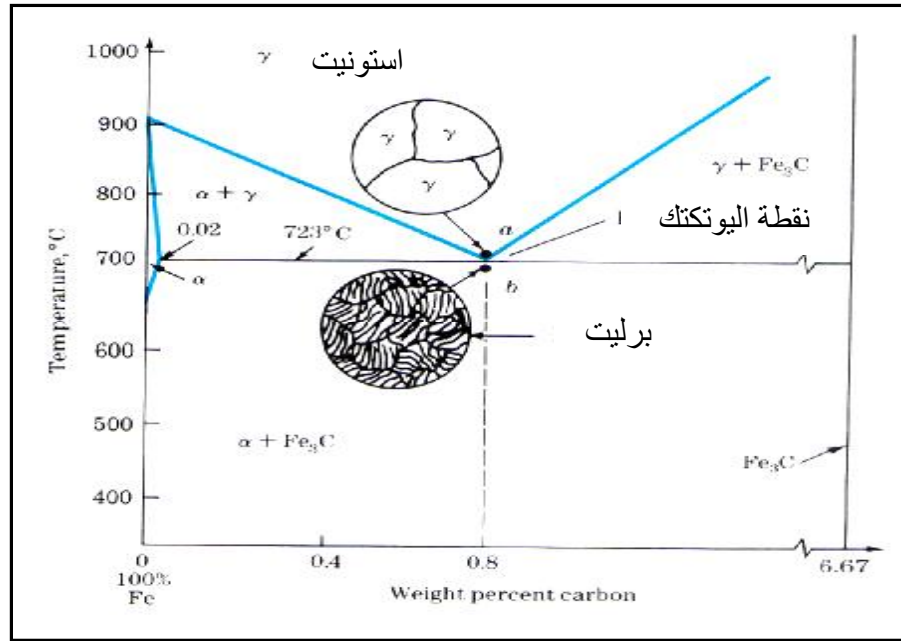
أقسام الفولاذ الكربوني والسبائكي:

- ١- **حديد (Iron):** وهو الذي يحتوي على نسبة كربون أقل من ٠,٠٠٨ %
- ٢- **الصلب أو الفولاذ (Steel):** ويحتوي على نسبة كربون تتراوح ما بين ٠,٠٠٨ – ٢,١١ %
- ٣- **الحديد الزهر (Cast Iron):** وتتراوح نسبة الكربون فيه ما بين ٢,١١ – ٦,٧ %.
- ٤- **الفولاذ السبائكي:** هو الذي يحوي بالإضافة إلى الحديد والكربون عناصر سبائكية مثل النيكل والكروم وغيرها .
- ٥- **حديد الزهر السبائكي:** يحوي أيضا عناصر سبائكية مثل الكروم والنيكل وغيرها وتضاف هذه العناصر لحديد الزهر لتحسين خصائصه الميكانيكية.

البنية الدقيقة للفولاذ الكربوني:

١- التركيب اليوتكتويدي:

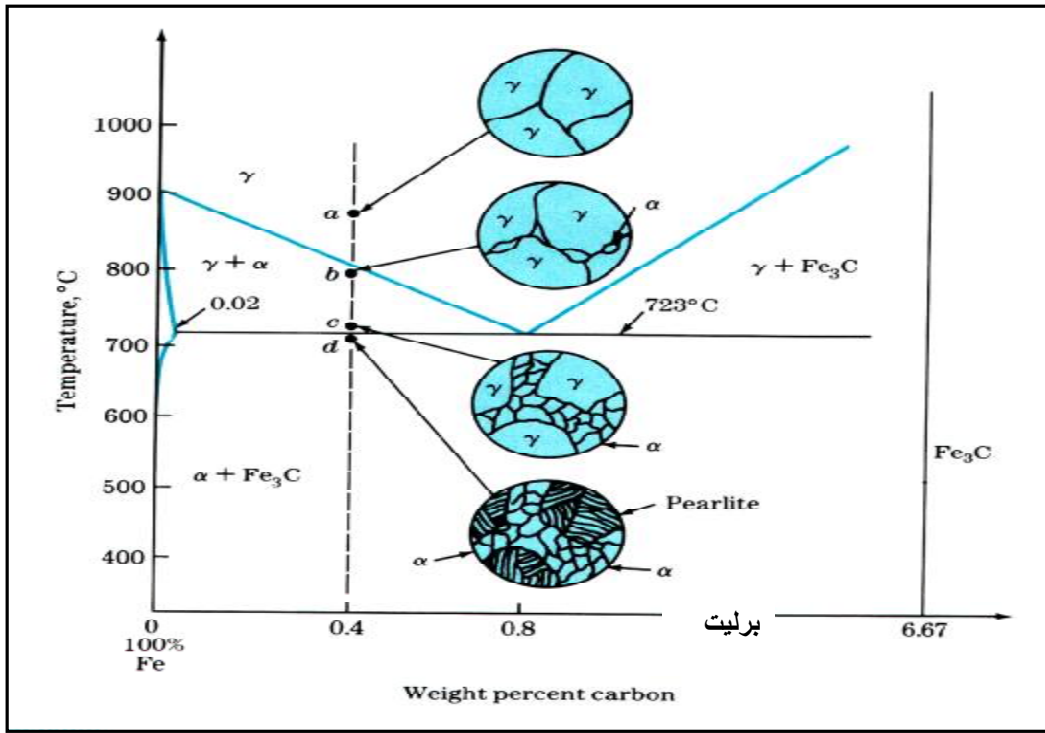
يبدأ من طور الاستونيت ثم ينتقل بالتبريد الى البرليت (سمنتيت + فريت).



شكل (٨-٣) التركيب اليوتكتويدي

٢- التركيب تحت اليوتكتويدي:

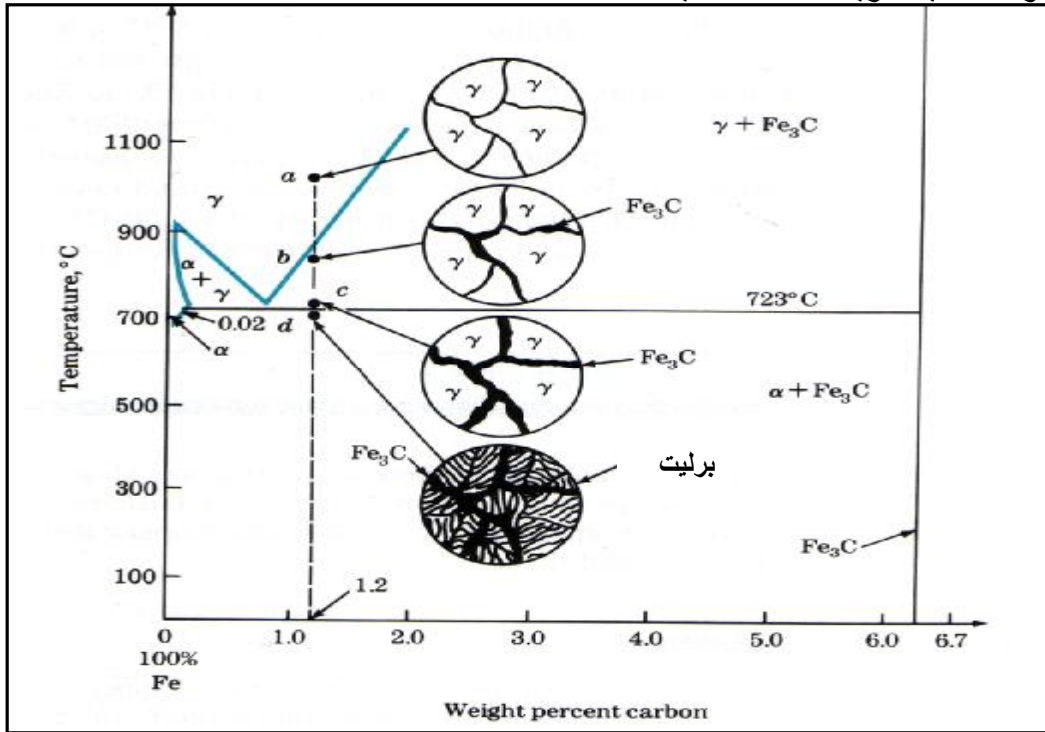
ينتج عندما تكون نسبة الكربون أقل من ٠,٨٣ % ويبدأ من طور الاستونيت ثم يتكون الفريت أثناء عملية التبريد إلى أن نحصل على الفريت + البرليت تحت درجة الحرارة ٧٢٣ م°.



شكل (٨-٤) التركيب تحت اليوتكتويدي

٣- التركيب فوق اليوتكتويدي:

ينتج عندما تكون نسبة الكربون أعلى من ٠,٨٣ % ويبدأ من طور الاستونيت ثم بالتبريد يتكون السمنتيت ويزداد تدريجياً حتى تصبح درجة الحرارة أقل من ٧٢٣°م ويتكون السمنتيت والبرليت ونلاحظ أيضاً زيادة أغلفة السمنتيت.



شكل (٨-٥) التركيب فوق اليوتكتويدي

التطبيق الثاني: