

نموذج (E)

الامتحان الاول /الكورس الثاني

المرحلة الثالثة / دراسات صباحية

M S project: المادة

وقت الامتحان : 50 دقيقة

اليوم : الاثنين 2019/3/25




الاسم :	الشعبة :	الرقم :
---------	----------	---------

السؤال الاول / اختيار الاجابة الصحيحة للعبارات التالية ؟ (4 درجات)	حرف الاجابة
1 قائمة تنسيق تحتوي على ستة مجموعات وهي : (تنسيق، ، انماط الشريط ، نمط مخطط جانث ، اظهار / اخفاء ، رسومات) أ – الحافظة ب- اعمدة ج- تقارير د- نافذة	
2 تحديث المعلومات المتعلقة بالمهام المحددة، مثل وضع علامة على النسبة المئوية للاكمال وتعيين المدة الفعلية او المتبقية وتعديل تواريخ البدء والانتها الفعلية و انشاء الملاحظات، هي عملية أ- تحديث المهام ب- تعقب المهام ج- التمرير الى المهمة	
3 الانتقال الى المنطقة الموجودة في طريقة العرض والتي تحتوي على شريط المهمة المطلوبة، هي عبارة عن عملية أ- تحديث المهام ب- تعقب المهام ج- التمرير الى المهمة	
4 ماهو الرمز المختصر الذي يقابل 3 ساعة : أ - 6 س ب- 3 ش ج- 3 س د- 4 س هـ - 3 ساعة	

السؤال الثاني / اكمل الفراغات التالية (4 درجات)

5 يستعاض عن المهمة بالرقم الخاص بالمهمة الاساسية	
6 الخط الزمني : يعرض اللازم لانجاز المشروع من البداية وحتى نهاية	
7 بعد ادخال اي بيانات وتريد الانتقال الى الاسفل يجب الضغط على (.....) في كل مرة.	
8 في خطة العمل يوجد عمود بأسم وضع المهمة :يحتوي على اثنين من الاوضاع هما وضع تلقائي والآخر.....	

السؤال الثالث / ماذا تعني الصور التالية (3 درجات)

9 	
10 	
11 	

السؤال الرابع / اكمل الجدول التالي لاتجاز الاجراء المطلوب من خلال التوبيب والمجموعة والامر

ت	الاجراء المطلوب	التوبيب	المجموعة	الامر
12	ربط المهام			ربط المهام
13	اضافة عمود			ادراج عمود
14	اوقات العمل	مشروع		
15	تغيير تاريخ الحالة عن طريق مجموعة الحالة	مشروع		

الدرجة النهائية التي حصل عليها الطالب هي () من 15