

نموذج (B)

الامتحان الاول / الكورس الثاني

المرحلة الثالثة / دراسات صباحية

M S project: المادة

وقت الامتحان : 50 دقيقة

اليوم : الاثنين 2019/3/25




الاسم :	الشعبة :	الرقم :
---------	----------	---------

السؤال الاول / اختيار الاجابة الصحيحة للعبارات التالية ؟ (4 درجات)	حرف الاجابة
1 اذا اردنا تعطيل العمل خلال اسبوع العمل فاننا سنكتب اسم المناسبة في قائمة الاستثناءات ونحدد تاريخ البدء والانتهاه ثم نضغط على تفاصيل سيفتح مربع تفاصيل حول اسم المناسبة ونختار الخ..... أ - اوقات العمل ب- تعطيل ج- عطلة د- اوقات عمل غير مناسبة ه- غير اوقات العمل	
2 يتكون شريط القوائم من خمسة قوائم هي: (ملف، مهمة، مورد،، عرض، تنسيق) أ- مشروع ب- خيارات ج- جدول د- تحرير	
3 قائمة مورد تتكون من 5 مجموعات وقائمة المشروع تتكون من 6 مجموعات وفيمايلي واحد من الخيارات يمثل مجموعة متشابهة بين الاثنين: أ- عرض ب- التعينات ج-جدول د- أدراج	
4 تحديث المعلومات المتعلقة بالمهام المحددة، مثل وضع علامة على النسبة المئوية للاكمال وتعيين المدة الفعلية او المتبقية وتعديل تواريخ البدء والانتهاه الفعلية و انشاء الملاحظات، هي عملية أ- تحديث المهام ب- تعقب المهام ج- التمرير الى المهمة	

السؤال الثاني / اكمل الفراغات التالية (4 درجات)

5 نقل المهام : نقل المهام المحددة الى الامام او الخلف في جدول..... المشروع.....	
6 بعد ادخال اي بيانات وتريد الانتقال الى الاسفل يجب الضغط على (.....Enter.....) في كل مرة.	
7 عمود اسماء الموارد: يحتوي على اسماء الموارد التي تم تخصيصها..... للمهمة.....	
8 مجدول يدوياً : تعني لا يتم تحديث تواريخ المهام بصورة تلقائية.....	

السؤال الثالث / ماذا تعني الصور التالية (3 درجات)

9		تغيير وقت العمل
10		التمرير الى المهمة
11		جدولة تلقائية

السؤال الرابع / اكمل الجدول التالي لاتجاز الاجراء المطلوب من خلال التوبيب والمجموعة والامر (4 درجات)

ت	الاجراء المطلوب	التوبيب	المجموعة	الامر
12	نقل مهمة	مهمة	المهام	نقل
13	التمرير الى المهمة	مهمة	تحرير	تمرير الى المهمة
14	تعقب المهام	مهمة	جدول	وضع علامة عند التعقب
15	اضافة مهمة جديدة	مهمة	ادراج	ادراج مهمة

+++++

نموذج (B)

الامتحان الاول / الكورس الثاني

المرحلة الثالثة / دراسات صباحية

المادة: M S project

وقت الامتحان : 50 دقيقة

اليوم : الاثنين 2019/3/25

الاسم :	الشعبة :	الرقم :
---------	----------	---------

الدرجة النهائية التي حصل عليها الطالب هي () من 15