




| | | |
|---------|----------|---------|
| الاسم : | الشعبة : | الرقم : |
|---------|----------|---------|

| السؤال الاول / اختيار الاجابة الصحيحة للعبارات التالية ؟ (4 درجات) | حرف الاجابة |
|--|-------------|
| 1 قائمة عرض تحتوي على: أ- 6 مجموعات ب- 7 مجموعات ج- 8 مجموعات د- 9 مجموعات | |
| 2 ماهو الرمز المختصر الذي يقابل 3 اشهر : أ- 3 اسابيع ب- 3 اشهر ج- 3 س د- 3 ش | |
| 3 متابعة المهام من البداية الى النهاية وحسب التاريخ الماضي، وذلك من خلال رسم خط مستقيم داخل شريط جانبي الذي يمثل البيانات ، هي عبارة عن عملية ... أ- تحديث المهام ب- نقل المهمة ج- التمرير الى المهمة د- الكل خطأ ه-الكل صح | |
| 4 قائمة مورد تتكون من 5 مجموعات وقائمة المشروع تتكون من 6 مجموعات وفيمايلي واحد من الخيارات يمثل مجموعة متشابهة بين الاثنين: الحالة ب- خصائص ج-تقارير د- تدقيق | |

السؤال الثاني / اكمل الفراغات التالية (4 درجات)

| | |
|---|--|
| 5 ارقام المهمات : كل مهمة عندما يتم ادخال بياناتها فان البرنامج سيعطيها رقم..... | |
| 6 مؤشر المعلومات : يعرض المعلومات التي تخص المهام او..... | |
| 7 في خطة العمل يوجد عمود بأسم وضع المهمة :يحتوي على اثنين من الاوضاع هما وضع..... والآخر يدوي | |
| 8 يستعاض عن المهمة السابقة ب..... الخاص بالمهمة الأساسية | |

السؤال الثالث / ماذا تعني الصور التالية (3 درجات)

| | |
|--|--|
| 9  | |
| 10  | |
| 11  | |

السؤال الرابع / اكمل الجدول التالي لانجاز الاجراء المطلوب من خلال التوبيخ والمجموعة والامر (4 درجات)

| ت | الاجراء المطلوب | التوبيخ | المجموعة | الامر |
|----|-----------------|---------|----------|-------------|
| 12 | اضافة عمود | | | ادراج عمود |
| 13 | انشاء مشروع | مشروع | | |
| 14 | تحديث المشروع | | | تحديث مشروع |
| 15 | اوقات العمل | مشروع | | |

الدرجة النهائية التي حصل عليها الطالب هي () من 15

نموذج (A)

الامتحان الاول / الكورس الثاني

المرحلة الثالثة / دراسات صباحية

المادة: M S project

وقت الامتحان : 50 دقيقة

اليوم : الاثنين 2019/3/25

| | | |
|---------|----------|---------|
| الاسم : | الشعبة : | الرقم : |
|---------|----------|---------|